

Elève : Maëlle

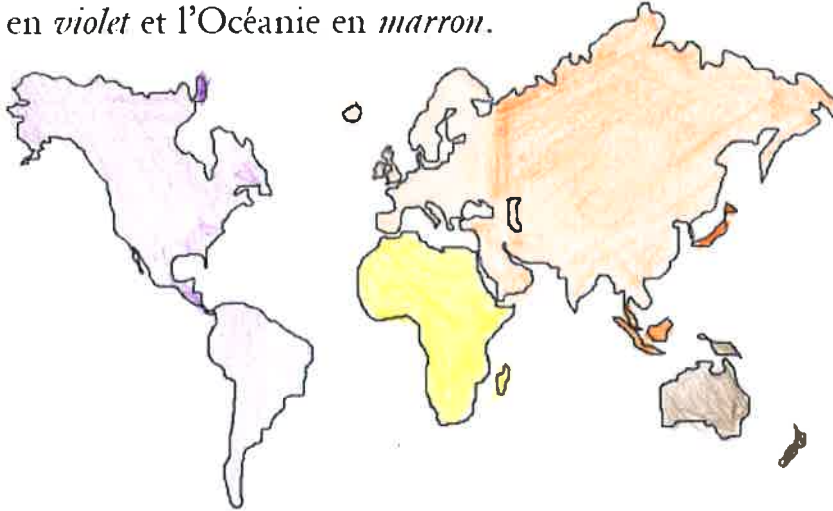
Date : 15/10/15

# TEST

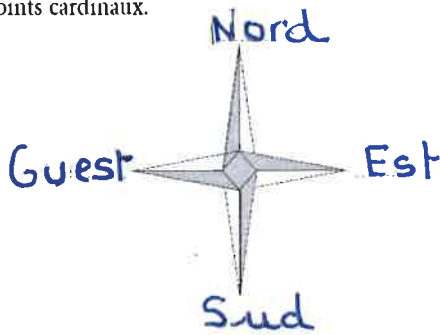


<b>CEINTURE BLANCHE</b>	<b>compétence numéro 1 :</b> Je connais la Terre et ses représentations.	<b>SEUL</b>	<b>GEOGRAPHIE</b>
-------------------------	---	-------------	-------------------

1a. Sur cette carte géographique, colorie l'Europe en *rose*, l'Afrique en *jaune*, l'Asie en *orange*, les Amériques en *violet* et l'Océanie en *marron*.



1b. Indique sur cette rose des vents le nom des quatre points cardinaux.



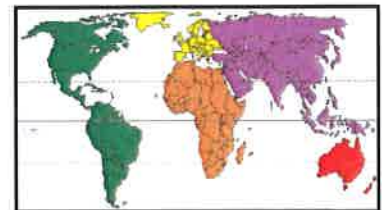
1c. Ecris les mots PLANISPHERE et GLOBE au bon endroit :

⇒ PLANISPHERE : représentation plane des deux hémisphères du globe terrestre.

⇒ GLOBE : corps sphérique représentant la Terre.



GLOBE



PLANISPHERE

1d. Complète les définitions avec les mots suivants : *tropique* – *continent* – *hémisphère* – *pôle* – *équateur* – *océan*

Continent est une immense étendue de terre.

Il existe 6 continents : l'Amérique, l'Europe, l'Asie, l'Afrique, l'Océanie et l'Antarctique.

Equateur est la ligne imaginaire qui partage la Terre en deux parties égales et qui se trouve à la même distance de chaque pôle.

Hémisphère est la moitié nord ou la moitié sud de la Terre, à partir de l'équateur.

Pôle sont les extrémités nord et sud de la Terre, autour desquelles la Terre tourne.

Tropiques sont les deux cercles imaginaires parallèles à l'équateur,

Océan est une vaste étendue d'eau salée.